



Název projektu	Moderní škola 2010
Registrační číslo projektu	CZ.1.07/1.4.00/21.1492
Šablona	M III/2 Inovace výuky pomocí ICT
Škola	Základní škola a Mateřská škola Okrouhlá, okres Česká Lípa, 473 01 Okrouhlá 11, příspěvková organizace
Sada	Zápis
Český jazyk	MA-3.roc.-18.2012.ek
Klíč k zápisu	Předmět-ročník-pořadové číslo DUMU- zkratka autora DUMU
DUM vypracován dne:	4.2.2012
Pořadové číslo DUM:	18

Autorem materiálu a všech jeho částí, není-li uvedeno jinak, je Eva Kraumanová

Anotace	Prezentace je určena k procvičení a upevnění sčítání a odčítání dvojciferných čísel
Autor	Mgr. Eva Kraumanová
Jazyk	Čeština
Očekávaný výstup	Používá přirozená čísla k modelování reálných situací, počítá předměty v daném souboru
Speciální vzdělávací potřeby	Žádné
Klíčová slova	Sčítání, odčítání
Druh učebního materiálu	Prezentace
Druh interaktivity	Aktivita
Cílová skupina	Žák
Stupeň a typ vzdělávání	Základní vzdělání – první stupeň – první období
Typická věková skupina	7 – 9 let
Celková velikost	548 kB

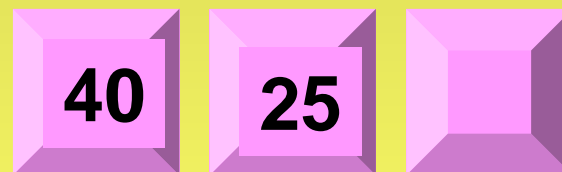


Autorem materiálu a všech jeho částí, není-li uvedeno jinak, je Eva Kraumanová

Sčítání a odčítání dvojciferných čísel

SČÍTÁNÍ

Autorem materiálu a všech jeho částí, není-li uvedeno jinak, je Eva Kraumanová

Sečti sousední čísla na tlačítku a výsledek zapiš



Autorem materiálu a všech jeho částí, není-li uvedeno jinak, je Eva Kraumanová

Vypočítej příklady, podle výsledku vyhledej písmeno a doplň do tajenky

32	+	49	=	
76	+	16	=	
57	+	28	=	
65	+	26	=	
38	+	14	=	
29	+	18	=	
59	+	24	=	

33	A
82	Á
74	C
85	D
52	E
73	F
92	H
53	M
72	N
54	O
36	P
61	R
81	Š
91	U
47	V

17	+	17	=	
27	+	47	=	
16	+	37	=	
25	+	47	=	
39	+	22	=	
19	+	14	=	
18	+	28	=	
33	+	49	=	


73	52	61	85	33		53	61	33	47	52	72	52	74

36	61	82	74	52		47	81	52	92	54		85	61	91	92	91

Autorem materiálu a všech jeho částí, není-li uvedeno jinak, je Eva Kraumanová

Vyřeš slovní úlohy

Do školní jídelny přivezli **26** kusů **housek** a **19** kusů **loupáčků**.
Kolik kusů pečiva dovezli do jídelny?



V zahradnictví prodali **56** cibulek **tulipánů**. Cibulek **modřence** prodali o **35** více.
Kolik cibulek modřence v zahradnictví prodali?



ODČÍTÁNÍ

Autorem materiálu a všech jeho částí, není-li uvedeno jinak, je Eva Kraumanová

Spoj balonky se správným výsledkem

$42 - 14$

$98 - 34$

$72 - 46$

$70 - 35$

$55 - 28$

$100 - 25$

$67 - 17$

$61 - 32$

$23 - 18$

$52 - 30$

$86 - 16$

$83 - 66$

35	28	70	29	5	64	75	27	50	22	26	17
----	----	----	----	---	----	----	----	----	----	----	----

Vypočítej řetězy

$87 - 5$ — $- 12$ — $- 14$ — $- 18$ — $- 20$ — $=$

$92 - 15$ — $- 20$ — $- 3$ — $- 24$ — $- 15$ — $=$

$100 - 11$ — $- 5$ — $- 25$ — $- 30$ — $- 31$ — $=$

Autorem materiálu a všech jeho částí, není-li uvedeno jinak, je Eva Kraumanová

Vyřeš slovní úlohy

Na závody ve vybíjené přijelo **32 chlapců**. **Dívek** přijelo **o 12 méně**.
Kolik dívek přijelo na závody?



Do obchodu dodali **53 sáčků pomerančů**. Během dne **28 sáčků prodali**.
Kolik sáčků pomerančů mají v obchodě nyní?



Seznam použitých zdrojů

Všechny uveřejněné odkazy [cit. 2012-2-4]. Dostupné v programu Microsoft Office PowerPoint

Autorem materiálu a všech jeho částí, není-li uvedeno jinak, je Eva Kraumanová